

**Завдання для учасників II етапу Всеукраїнської учнівської олімпіади з історії
8 КЛАС**

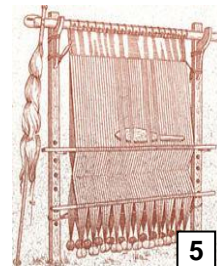
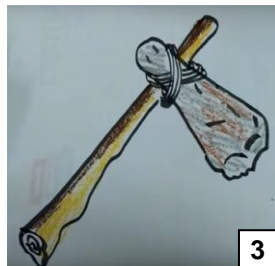
Максимальний час виконання завдань – 4 години

Максимальна кількість балів – 105

I. «Баталістика». Прочитайте уривки з інтернет-публікацій, що описують події воєнної історії. Відновіть їхню цілісність, заповнивши пропуски в тексті. *Кожен правильно відновлений уривок – 1 бал. Усього – 10 балів.*

1. У _____ (рік до н. е.) біля _____ (місцевість), що на території сучасної Греції, відбулася славновідома битва між персами і греками. Спартанці, очолювані царем _____ (ім'я), мужньо боронилися проти чисельної ворожої армії, але не запобігли перському проникненню на землі Еллади.
2. У _____ (рік до н. е.) біля _____ (село), що на території сучасного Іраку, відбулася кровопролитна греко-перська битва. Перське військо очолював цар Дарій III, а грецьке – _____ (ім'я та прізвище). У результаті перський цар утік із поля бою, а греки захопили Вавилон і _____ (місто) – столицю Персії.
3. У _____ (рік до н. е.), в ході другої Пунічної війни, біля _____ (місто), що на території сучасної Італії, відбулася битва між карфагенською та римською арміями. У результаті однієї з найкривавіших у світовій історії баталій карфагенське військо, очолюване _____ (ім'я), знищило або захопило в полон біля 60 000–70 000 римлян.
4. У _____ (рік) в Північне Причорномор'я з _____ (країна) і Монголії вторглися кочові племена гунів. Найвищого піднесення їхня держава досягла за правителя _____ (ім'я) (434–453). Однак у _____ (рік) його армія зазнала поразки в битві _____ (місцевість), що на території сучасної Франції. Після цього військова могутність гунів занепадала.
5. У _____ (рік) відбувся перший Балканський (Дунайський) похід князя _____ (ім'я), який вирушив на допомогу Візантії проти _____ (країна). Князь розбив військо супротивника й зупинився в місті Переяславець, яке хотів зробити столицею своєї держави.
6. У _____ (рік) князь _____ (ім'я) переміг рицарів Добжинського ордену в битві біля _____ (місто), що на території сучасної Польщі. Цього ж року переможець повернув собі батьківський престол у місті Галич.
7. 19 вересня _____ (рік), під час Столітньої війни, біля _____ (місто), що на території Франції, відбулася велика битва між англійською армією Едуарда Чорного Принца й французьким військом короля _____ (ім'я та прізвище). У результаті баталії загинув цвіт французького рицарства – 16 баронів та 2 426 рицарів.
8. У _____ (рік) відбулася битва литовсько-українсько-білоруського війська, очолюваного князем _____ (ім'я), проти татар біля _____ (річка), що є лівою притокою річки Південний Буг. Перемога союзної армії призвела до розширення кордонів Великого князівства Литовського і повалення золотоординського ярма.
9. 15 липня _____ (рік), під час «Великої війни», біля _____ (місто), що на території сучасної Польщі, відбулася битва між військами _____ (державне утворення) та Королівства Польського і Великого князівства Литовського, Руського і Жемайтійського. Об'єднану армію очолювали король польський _____ (ім'я) та великий князь литовський Вітовт. У результаті баталії припинено експансію рицарів на Схід.
10. 8 вересня _____ (рік) біля _____ (місто), що на території сучасної Білорусі, відбулася битва між литовсько-руським військом під командуванням великого гетьмана литовського _____ (ім'я та прізвище) і московитською армією. Зазнавши нищівної поразки, московити втратили тридцять тисяч вояків. У полон потрапили 37 їхніх бояр та півтори тисячі дворян.

II. Термінологія. Повсякдення. Розгляньте зображення знарядь (пристроїв) для праці. Назвіть їх. Опишіть, для чого та як їх використовували. *Кожне правильно назване знаряддя – 1 бал. Кожен опис – від 0 до 2 балів (тут і далі – 0 балів – відсутність відповіді, 1 бал – частковість, 2 бали – вичерпність). Усього – 15 балів.*



III. Біографістика. Упізнайте діяча історії України та заповніть його уявну фейсбук-сторінку. Заповнення кожної рубрики – від 0 до 2 балів. Усього – 10 балів.

facebook

ЯРОСЛАВ

Ек. логіна або номер телефону Пароль
 Заспамити мене Забули свій пароль?



ПРО СЕБЕ

Прізвисько _____

Роки життя _____

Роки діяльності _____

Країна діяльності _____

Посада _____

ЖИТТЄВЕ ПРАВИЛО

СІМ'Я

Дружини _____

Діти _____

ДРУЗІ

ПОЛІТИКА

Внутрішня _____

Зовнішня _____

IV. Літературознавство історичне. В українській літературі є чимало прислів'їв, приказок та крилатих висловів. Якщо вдуматися в їх зміст, виявляється, що вони влучно відображають певні історичні події чи епізоди. Установіть відповідності між крилатими фразами та відображуваними в них подіями або епізодами. Поясніть взаємозв'язки в кожній відповідності. *Кожна правильно встановлена відповідність – 1 бал. Кожне пояснення – 0–2 бали. Всього – 15 балів.*

- | | |
|---|---|
| <ol style="list-style-type: none"> 1. Пильнуй свого носа, а не чужого проса. 2. За двома зайцями не гонись, бо й одного не впіймаєш. 3. Найшла коса на камінь: коса не втне, камінь не подасться. 4. Не борода робить чоловіка мудрим. 5. Найбільша сила – в найбільшій єдності та організації. (Володимир Винниченко) | <ol style="list-style-type: none"> А. Протистояння пап римських із німецькими імператорами. Б. Зовнішньополітична діяльність князя Святослава Ігорьовича. В. Русь-Україна за Ярослава Мудрого. Г. Від роздробленості до станово-представницьких монархій у Європі. Д. Повстання древлян проти князя Ігоря Рюриковича. |
|---|---|

V. Дипломатія. Заповніть таблицю, що стосується історії міжнародних відносин. Кожна правильно заповнена горизонталь – 0–5 балів (за кожен останній сектор – 0–2 бали). Всього – 15 балів.

Назва договору, угоди, союзу	Дата (рік) укладання	Місце (країна, місцевість і т. ін.) укладання	Сторони (країни, постаті) укладання	Умови договору, угоди, союзу
Верденський договір				
Тордесільяський договір				
Люблінська унія				


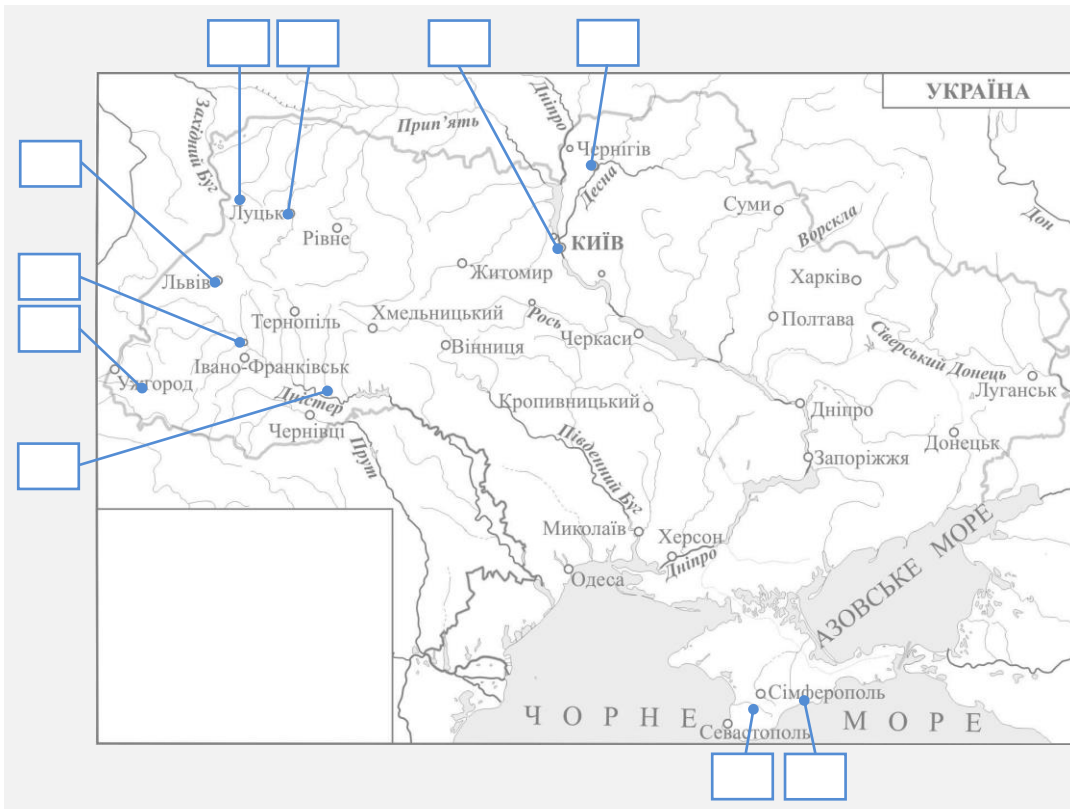
VI. Краєзнавство. Внесіть до таблиці події історії Прикарпаття відповідно до вказаних періодів. Кожна правильно внесена подія – 1 бал. Усього – 10 балів.

XV століття	XVI століття	XVII століття

1. Входження Прикарпаття до складу Речі Посполитої. 2. Заснування Скиту Манявського. 3. Заснування львівським єпископом Гедеоном Балабаном першої друкарні у селі Стратин теперішнього Рогатинського району. 4. Розгортання селянського повстання під керівництвом Івана Мухи. 5. Захоплення в татарсько-турецький полон доньки рогатинського священика Насті Лісовської. 6. Започаткування татарсько-турецьких набігів на територію Прикарпаття. 7. Заснування міста Станиславова. 8. Започаткування опришківського руху. 9. Спорудження дерев'яної церкви Благовіщення в місті Коломия. 10. Надання магдебурзького права містам Коломия, Снятин, Тлумач, Рогатин.

VII. Наративістика. У навчальній програмі з історії України для восьмого класу зазначена тема: «Криза православної церкви в XVI ст. Реформаційний та контрреформаційний рухи в Україні». Уявіть, що Вам доручено підготувати відповідне питання для параграфа підручника. Про що Ви написали би в ньому? Повідомлення оцінюється за такими критеріями: • відповідність змісту викладу умові завдання – 0–3 бали (тут і далі – 0 балів – не виконано; 1–2 бали – виконано частково; 3 бали – виконано повністю); • знання та аргументоване, достатнє для розкриття теми, застосування основних історичних категорій: історичної хронології; термінології; персоналістики; географії; джерелознавства – 0–3 бали; • з'ясування причинно-наслідкових зв'язків – 0–3 бали; • логічність та послідовність викладу матеріалу – 0–3 бали; • наявність висновків – 0–3 бали; • виявлення загальної ерудиції – 0–3 бали; • дотримання вимог сучасної української мови – 2 бали. Всього – 20 балів.

VIII. Картографія. У відповідність зображення історично-архітектурних пам'яток та їхні місця розташування, вписуючи цифри в потрібні «віконця». За необхідності заповніть умовні позначення. Кожна правильна відповідність – 1 бал. Усього – 10 балів.



**Завдання для учасників II етапу Всеукраїнської учнівської олімпіади з історії
9 КЛАС**

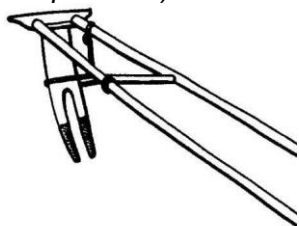
Максимальний час виконання завдань – 4 години

Максимальна кількість балів – 105

I. «Баталістика». Прочитайте уривки з інтернет-публікацій, що описують події воєнної історії. Відновіть їхню цілісність, заповнивши пропуски в тексті. *Кожен правильно відновлений уривок – 1 бал. Усього – 10 балів.*

1. У _____ (рік до н. е.) біля _____ (село), що на території сучасного Іраку, відбулася кровопрлитна греко-перська битва. Перське військо очолював цар Дарій III, а грецьке – _____ (ім'я та прізвище). У результаті перський цар утік із поля бою, а греки захопили Вавилон і _____ (місто) – столицю Персії.
2. У _____ (рік до н. е.), в ході другої Пунічної війни, біля _____ (місто), що на території сучасної Італії, відбулася битва між карфагенською та римською арміями. У результаті однієї з найкривавіших у світовій історії баталій карфагенське військо, очолюване _____ (ім'я), знищило або захопило в полон біля 60 000–70 000 римлян.
3. У _____ (рік) в Північне Причорномор'я з _____ (країна) і Монголії вторглися кочові племена гунів. Найвищого піднесення їхня держава досягла за правителя _____ (ім'я) (434–453). Однак у _____ (рік) його армія зазнала поразки в битві _____ (місцевість), що на території сучасної Франції. Після цього військова могутність гунів занепадала.
4. У _____ (рік) князь _____ (ім'я) переміг рицарів Добжинського ордену в битві біля _____ (місто), що на території сучасної Польщі. Цього ж року переможець повернув собі батьківський престол у місті Галич.
5. 19 вересня _____ (рік), під час Столітньої війни, біля _____ (місто), що на території Франції, відбулася велика битва між англійською армією Едуарда Чорного Принца й французьким військом короля _____ (ім'я, прізвище). У результаті баталії загинув цвіт французького рицарства – 16 баронів та 2 426 рицарів.
6. У _____ (рік) великий гетьман литовський _____ (ім'я, прізвище), командуючи 30-ти тисячним військом, завдав поразки 80-ти тисячній московитській армії в битві біля _____ (місто), що на території сучасної Білорусі. Ця перемога на певний час затримала експансію Московії в українські землі.
7. У _____ (рік) в протоці _____ (назва) відбулася битва між іспанською армадою, посланою королем _____ (ім'я), та англійським флотом, очолюваним Говардом Ефінгемом і _____ (ім'я та прізвище). У результаті баталії тільки половина армади повернулася на батьківщину.
8. У січні _____ (рік) відбулася «дрижипільська битва» біля _____ (село), що на території Черкаської області, де польсько-татарське військо оточило українсько-московитський табір. Здобувши незначну перемогу, гетьман _____ (ім'я та прізвище) не зміг звільнити територію Брацлавщини.
9. 12 вересня _____ (рік) об'єднане польсько-австрійсько-німецьке військо під командуванням польського короля _____ (ім'я та прізвище) розгромило османську армію візира Кари-Мустафи у битві поблизу _____ (місто), що є столицею теперішньої Австрії. Цю баталію деякі науковці називають «кавовою».
10. 18 червня _____ (рік) біля _____ (містечко), що на території теперішньої Бельгії, відбулася вирішальна битва періоду Наполеонівських воєн. У протиборстві зійшлися французька армія, очолювана _____ (ім'я та прізвище) й Мішелем Нейєм, та об'єднане військо Англії, Пруссії, Голландії тощо. У результаті баталії 25 тисяч французів й 22 тисячі англійців і їхніх союзників полягли вбитими чи пораненими. Армія Франції перестала існувати.

II. Термінологія. Повсякдення. Розгляньте зображення знарядь (пристроїв) для праці. Назвіть їх. Опишіть, для чого та як їх використовували. *Кожне правильно назване знаряддя – 1 бал. Кожен опис – від 0 до 2 балів (тут і далі – 0 балів – відсутність відповіді, 1 бал – частковість, 2 бали – вичерпність). Усього – 15 балів.*



1



2



3



4



5

III. Біографістика. Упізнайте діяча історії України та заповніть його уявну фейсбук-сторінку. Заповнення кожної рубрики – від 0 до 2 балів. Усього – 10 балів.

facebook

БОГДАН

Екранна або номер телефону Пароль
 Залишити мене



ПРО СЕБЕ

Прізвисько _____

Роки життя _____

Роки діяльності _____

Країна діяльності _____

Посада _____

ЖИТТЄВЕ ПРАВИЛО

СІМ'Я

Дружини _____

Діти _____

ДРУЗИ

ПОЛІТИКА

Внутрішня _____

Зовнішня _____

IV. Літературознавство історичне. В українській літературі є чимало прислів'їв, приказок та крилатих висловів. Якщо вдуматися в їх зміст, виявляється, що вони влучно відображають певні історичні події чи епізоди. Установіть відповідності між крилатими фразами та відображуваними в них подіями або епізодами. Поясніть взаємозв'язки в кожній відповідності. *Кожна правильно встановлена відповідність – 1 бал. Кожне пояснення – 0–2 бали. Усього – 15 балів.*

- | | |
|---|---|
| <ol style="list-style-type: none"> 1. Треба розумом надточити, де сила не візьме. 2. Діждемося пори, що виліземо з нори. 3. Хіба режуть воли, як ясла повні?
<i>(Панас Мирний)</i> 4. На чийй землі живеш, того й воду п'єш. 5. Не так важко вмерти за ідею, як знайти ідею, щоб за неї вмерти.
<i>(Андрій Коваль)</i> | <ol style="list-style-type: none"> А. Французька революція кінця XVIII ст. Б. Національно-визвольна війна українського народу середини XVII ст. В. Початок українського національного відродження. Формування сучасної української національної самосвідомості. Г. Українські території в складі Російської та Австрійської (Австро-Угорської) імперій. Д. Декларація незалежності Сполучених Штатів Америки. |
|---|---|

V. Дипломатія. Заповніть таблицю, що стосується історії міжнародних відносин. Кожна правильно заповнена горизонталь – 0–5 балів (за кожен останній сектор – 0–2 бали). Всього – 15 балів.

Назва договору, угоди, союзу	Дата (рік) укладання	Місце (країна, місцевість і т. ін.) укладання	Сторони (країни, постаті) укладання	Умови договору, угоди, союзу
Кальмарська унія				
Вестфальський договір				
«Березневі статті»				

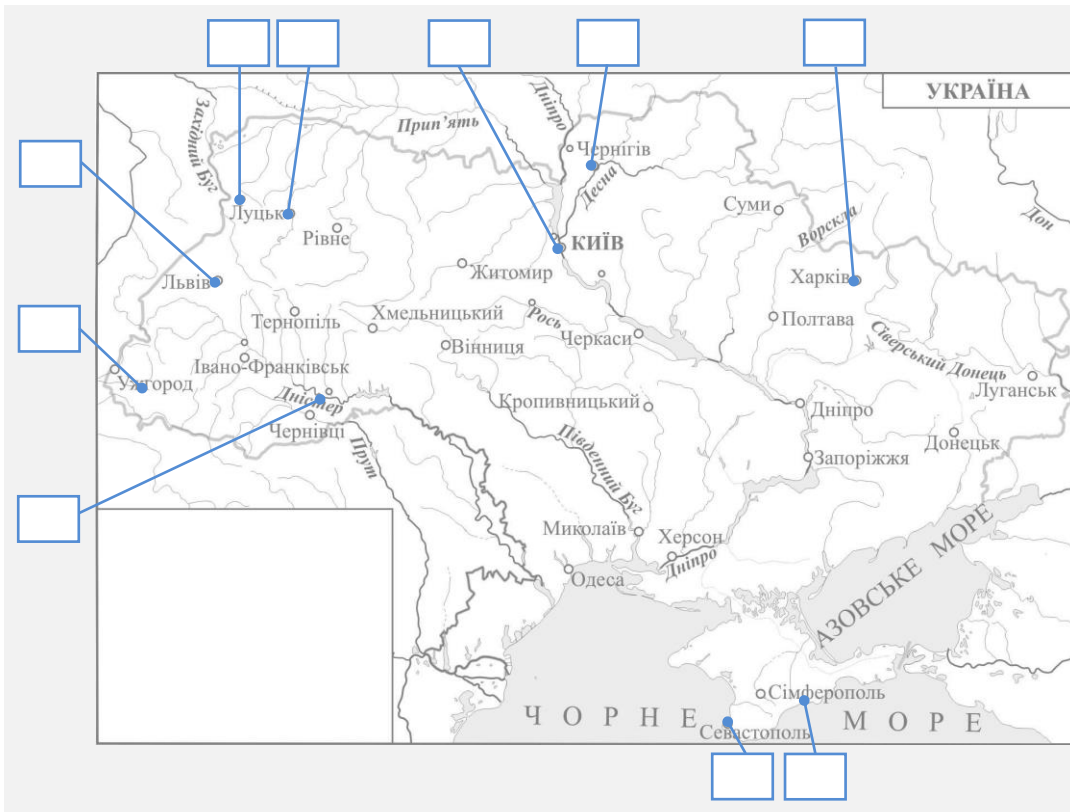
VI. Краєзнавство. Внесіть до таблиці події історії Прикарпаття відповідно до вказаних історичних періодів. Кожна правильно внесена подія – 1 бал. Усього – 10 балів.

XVII століття	Перша половина XVIII століття	Друга половина XVIII століття

1. Розгортання національно-визвольного повстання під керівництвом Семена Височана.
2. Заснування Скиту Манявського.
3. Заснування львівським єпископом Гедеоном Балабаном першої друкарні у селі Стратин теперішнього Рогатинського району.
4. Розгортання опишківського руху під керівництвом Олекси Довбуша.
5. Поховання гетьмана Івана Виговського на території Скиту Манявського (за свідченнями деяких джерел).
6. Завершення спорудження костелу Непорочного Зачаття Пресвятої Діви Марії (фамільний костел Потоцьких, тепер – обласний художній музей) у місті Станиславів.
7. Надання магдебурзького права місту Станиславів.
8. Захоплення Станиславівської фортеці російськими військами під час розгортання Північної війни.
9. Входження території Прикарпаття до складу Австрійської імперії.
10. Завершення спорудження архітектором Бернардом Меретином костелу Непорочного Зачаття Діви Марії в місті Городенка.

VII. Наративістика. У навчальній програмі з історії України для дев'ятого класу зазначена тема: «Початок українського національного відродження/руху. Формування сучасної української національної самосвідомості. Новгород-Сіверський автономістський гурток. Харківський осередок українського відродження/руху». Уявіть, що Вам доручено підготувати відповідне питання для параграфу підручника. Про що Ви написали би в ньому? Повідомлення оцінюється за такими критеріями: • відповідність змісту викладу умові завдання – 0–3 бали (тут і далі – 0 балів – не виконано; 1–2 бали – виконано частково; 3 бали – виконано повністю); • знання та аргументоване, достатнє для розкриття теми, застосування основних історичних категорій: історичної хронології; термінології; персоналістики; географії; джерелознавства – 0–3 бали; • з'ясування причинно-наслідкових зв'язків – 0–3 бали; • логічність та послідовність викладу матеріалу – 0–3 бали; • наявність висновків – 0–3 бали; • виявлення загальної ерудиції – 0–3 бали; • дотримання вимог сучасної української мови – 2 бали. Всього – 20 балів.

VIII. Картографія. Увідповідніть зображення історично-архітектурних пам'яток та їхні місця розташування, вписуючи цифри в потрібні «віконця». За необхідності заповніть умовні позначення. Кожна правильна відповідність – 1 бал. Усього – 10 балів.



**Завдання для учасників II етапу Всеукраїнської учнівської олімпіади з історії
10 КЛАС**


Максимальний час виконання завдань – 4 години

Максимальна кількість балів – 105

I. «Баталістика». Прочитайте уривки з інтернет-публікацій, що описують події воєнної історії. Відновіть їхню цілісність, заповнивши пропуски в тексті. *Кожен правильно відновлений уривок – 1 бал. Усього – 10 балів.*

1. У _____ (рік до н. е.) біля _____ (місцевість), що на території сучасної Греції, відбулася славновідома битва між греками і персами. Спартанці, очолювані царем _____ (ім'я), мужньо боронилися проти чисельної ворожої армії, але не запобігли перському проникненню на землі Еллади.
2. У _____ (рік) відбувся перший Балканський (Дунайський) похід князя _____ (ім'я), який вирушив на допомогу Візантії проти _____ (країна). Князь розбив військо супротивника і зупинився у місті Переяславець, яке хотів зробити столицею своєї держави.
3. 15 липня _____ (рік), під час «Великої війни», біля _____ (місто), що на території сучасної Польщі, відбулася битва між військами _____ (державне утворення) та Королівства Польського й Великого князівства Литовського, Руського і Жемайтійського. Об'єднану армію очолювали король польський _____ (ім'я) та великий князь литовський Вітовт. У результаті баталії припинено експансію рицарів на Схід.
4. 29 серпня _____ (рік) біля _____ (місто), що на території сучасної Угорщини, відбулася битва, в якій Османська імперія завдала нищівної поразки угорсько-чесько-хорватській коаліції. Турецьке військо очолював _____ (ім'я та прізвище), а об'єднане – король Лайош II, який загинув під час відступу. В результаті баталії територія сучасної Угорщини перейшла під турецький контроль.
5. У _____ (рік) в протоці _____ (назва) відбулася битва між іспанською армадою, посланою королем _____ (ім'я), та англійським флотом, очолюваним Говардом Ефінгемом і _____ (ім'я та прізвище). У результаті баталії тільки половина армади повернулася на батьківщину.
6. У липні _____ (рік) козацько-татарське військо, очолюване гетьманом _____ (ім'я та прізвище), завдало нищівної поразки московитській армії в битві біля _____ (місто), що на території сучасної Сумської області. В ході баталії розгромлено загони відбірної кінноти під командуванням князя Олексія Трубецького.
7. У липні _____ (рік) біля _____ (місто) відбулася битва між московитською та шведсько-козацькою арміями, що стала кульмінацією Північної війни. Баталія закінчилася поразкою союзників, очолюваних шведським королем _____ (ім'я) і гетьманом _____ (ім'я та прізвище).
8. 18 червня _____ (рік) біля _____ (містечко), що на території теперішньої Бельгії, відбулася вирішальна битва періоду Наполеонівських воєн. У протиборстві зішлись французька армія, очолювана _____ (ім'я та прізвище) й Мішелем Нейєм, і об'єднане військо Англії, Пруссії, Голландії тощо. У результаті баталії 25 тисяч французів й 22 тисячі англійців і їхніх союзників полягли вбитими чи пораненими. Армія Франції перестала існувати.
9. У _____ (рік) відбулася битва біля _____ (місто), що у штаті Пенсільванія _____ (країна). Це – одна з найважливіших битв Громадянської війни, в ході якої 75-тисячна армія генерала _____ (ім'я та прізвище) зазнала поразки від 85-тисячного війська генерала Джорджа Міда. Для рабовласницької конфедерації баталія стала військовою катастрофою.
10. Хроніка подій Кримської війни _____ (роки) ознаменована одинадцятимісячною героїчною обороною _____ (місто). У протистоянні з об'єднаними англо-французько-турецькими військами репутацію Росії і її царя _____ (ім'я) самовіддано рятували чимало українців.

II. Термінологія. Повсякдення. Розгляньте зображення знарядь (пристроїв) для праці. Назвіть їх. Опишіть, для чого та як їх використовували. *Кожне правильно назване знаряддя – 1 бал. Кожен опис – від 0 до 2 балів (тут і далі – 0 балів – відсутність відповіді, 1 бал – частковість, 2 бали – вичерпність). Усього – 15 балів.*



III. Біографістика. Упізнайте діяча історії України та заповніть його уявну фейсбук-сторінку. Заповнення кожної рубрики – від 0 до 2 балів. Усього – 10 балів.

facebook

МИХАЙЛО

Залишити мене Забули свій пароль?



ПРО СЕБЕ

Прізвисько _____

Роки життя _____

Роки діяльності _____

Країна діяльності _____

Посада _____

ЖИТТЄВЕ ПРАВИЛО

СІМ'Я

Дружина _____

Дитина _____

ДРУЗІ

ПОЛІТИКА

Внутрішня _____

Зовнішня _____

IV. Літературознавство історичне. В українській літературі є чимало прислів'їв, приказок та крилатих висловів. Якщо вдуматися в їх зміст, виявляється, що вони влучно відображають певні історичні події чи епізоди. Установіть відповідності між крилатими фразами та відображуваними в них подіями або епізодами. Поясніть взаємозв'язки в кожній відповідності. *Кожна правильно встановлена відповідність – 1 бал. Кожне пояснення – 0–2 бали. Усього – 15 балів.*

- | | |
|--|--|
| <ol style="list-style-type: none"> 1. Не той ворог, що перед тобою, а той, що за спиною. 2. Ти його хрести, ти його святи, а воно в болото лізе. 3. Найбільша сила – в найбільшій єдності та організації. <i>(Володимир Винниченко)</i> 4. Треба йти на заробітки, бо вдома хліба ані дрібки. 5. Колись творилися слова – тепер абрєвіатури. <i>(Ліна Костенко)</i> | <ol style="list-style-type: none"> А. Трудова еміграція із Західної України в кінці XIX ст. Б. Утворення Троїстого союзу та Антанти. Четвертний союз. В. Поширення Реформації. Контрреформація в Європі. Г. Створення і діяльність політичних партій у пiдавстрійській та підросійській Україні. Д. Розкол Гетьманщини. Руїна. |
|--|--|

V. Дипломатія. Заповніть таблицю, що стосується історії міжнародних відносин. Кожна правильно заповнена горизонталь – 0–5 балів (за кожен останній сектор – 0–2 бали). Всього – 15 балів.

Назва договору, угоди, союзу	Дата (рік) укладання	Місце (країна, місцевість і т. ін.) укладання	Сторони (країни, постаті) укладання	Умови договору, угоди, союзу
Нантський едикт				
Вічний мир				
Версальський договір				

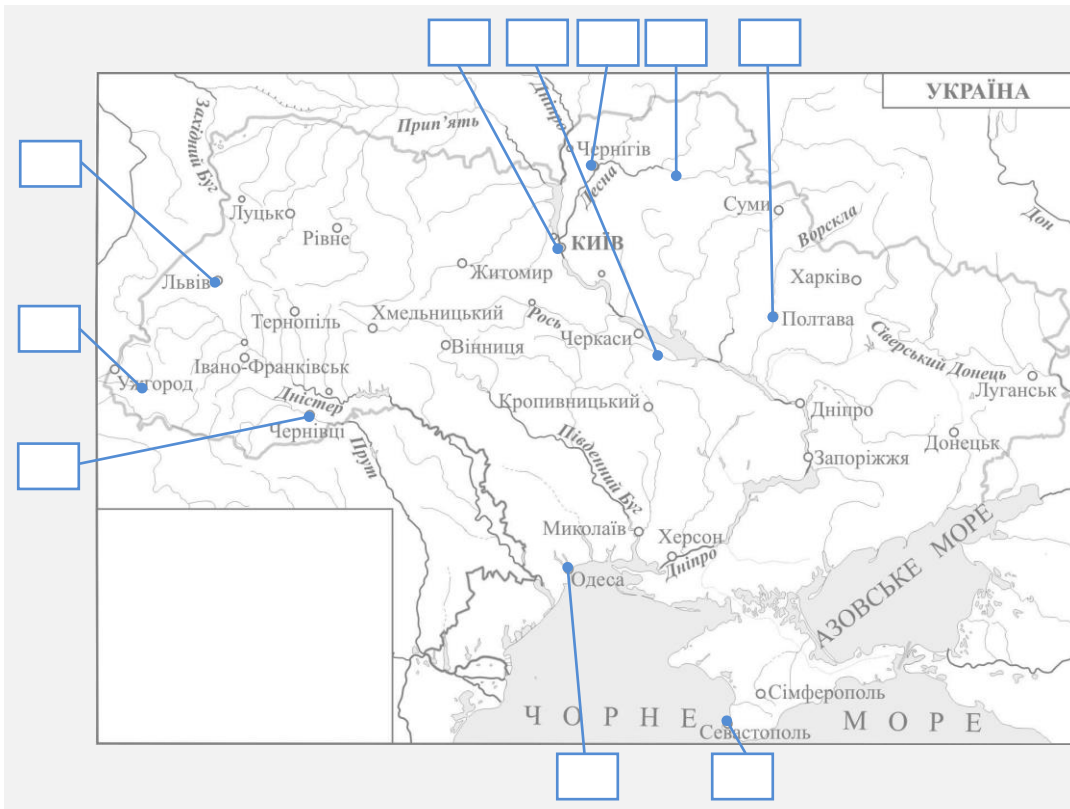
VI. Краєзнавство. Внесіть до таблиці події історії Прикарпаття відповідно до вказаних історичних періодів. Кожна правильно внесена подія – 1 бал. Усього – 10 балів.

XVIII століття	XIX століття	Перша четвертина XX століття

1. Утворення Гуцульської сотні у складі легіону Українських січових стрільців. 2. Припинення австрійською владою діяльності Скиту Манявського. 3. Надання Миколою Верещинським фінансової підтримки для видання альманаху «Русалка Дністровая». 4. Розгортання опишківського руху під керівництвом Олекси Довбуша. 5. Обрання депутатом австрійського парламенту селянина Івана Капушака. 6. Утворення Станиславівської єпархії Української греко-католицької церкви. 7. Заснування Кирилом Трильовським українського юнацького товариства «Січ» у селі Завалля теперішнього Снятинського району. 8. Започаткування діяльності народного Гуцульського театру в селі Красноїлля теперішнього Верховинського району. 9. Народження майбутнього провідника Організації українських націоналістів Степана Бандери в селі Старий Угринів теперішнього Калуського району. 10. Спорудження архітектором Бернардом Меретином костелу Непорочного Зачаття Діви Марії в місті Городенка.

VII. Наративістика. У навчальній програмі з історії України для десятого класу зазначена тема: «Політика Російської імперії та Австро-Угорщини на українських землях у 1914–1917 рр.». Уявіть, що Вам доручено написати відповідне питання для параграфа підручника. Про що Ви написали би в ньому? Повідомлення оцінюється за такими критеріями: • відповідність змісту викладу умові завдання – 0–3 бали (тут і далі – 0 балів – не виконано; 1–2 бали – виконано частково; 3 бали – виконано повністю); • знання та аргументоване, достатнє для розкриття теми, застосування основних історичних категорій: історичної хронології; термінології; персоналістики; географії; джерелознавства – 0–3 бали; • з'ясування причинно-наслідкових зв'язків – 0–3 бали; • логічність та послідовність викладу матеріалу – 0–3 бали; • наявність висновків – 0–3 бали; • виявлення загальної ерудиції – 0–3 бали; • дотримання вимог сучасної української мови – 2 бали. Всього – 20 балів.

VIII. Картографія. У відповідність зображення історично-архітектурних пам'яток та їхні місця розташування, вписуючи цифри в потрібні «віконця». За необхідності заповніть умовні позначення. Кожна правильна відповідність – 1 бал. Усього – 10 балів.



Завдання для учасників II етапу Всеукраїнської учнівської олімпіади з історії

11 КЛАС


Максимальний час виконання завдань – 4 години

Максимальна кількість балів – 105

I. «Баталістика». Прочитайте уривки з інтернет-публікацій, що описують події воєнної історії. Відновіть їхню цілісність, заповнивши пропуски в тексті. *Кожен правильно відновлений уривок – 1 бал. Усього – 10 балів.*

1. У _____ (рік до н. е.) біля _____ (село), що на території сучасного Іраку, відбулася кровопролитна греко-перська битва. Перське військо очолював цар Дарій III, а грецьке – _____ (ім'я та прізвище). У результаті перський цар утік із поля бою, а греки захопили Вавилон і _____ (місто) – столицю Персії.
2. У _____ (рік) в Північне Причорномор'я з _____ (країна) і Монголії вторглися кочові племена гунів. Найвищого піднесення їхня держава досягла за правителя _____ (ім'я) (434–453). Однак у _____ (рік) його армія зазнала поразки в битві _____ (місцевість), що на території сучасної Франції. Після цього військова могутність гунів занепадала.
3. У _____ (рік) відбулася битва литовсько-українсько-білоруського війська, очолюваного князем _____ (ім'я), проти татар біля _____ (річка), що є лівою притокою річки Південний Буг. Перемога союзної армії призвела до розширення кордонів Великого князівства Литовського і повалення золотоординського ярма.
4. У _____ (рік) великий гетьман литовський _____ (ім'я та прізвище) зі своїм 30-ти тисячним військом завдав поразки 80-ти тисячній московитській армії в битві біля _____ (місто), що на території сучасної Білорусі. Ця перемога на певний час затримала експансію Московії в Україну.
5. У _____ (рік) в протоці _____ (назва) відбулася битва між іспанською армадою, посланою королем _____ (ім'я), та англійським флотом, очолюваним Говардом Ефінгемом та _____ (ім'я та прізвище). У результаті баталії тільки половина армади повернулася на батьківщину.
6. У _____ (рік) козацьке військо, очолюване _____ (ім'я та прізвище), зруйнувало фортецю _____ (назва), споруджену французьким інженером Гійомом Левассером де Бопланом для припинення активності запорозьких січовиків.
7. 12 вересня _____ (рік) об'єднане польсько-австрійсько-німецьке військо під командуванням польського короля _____ (ім'я та прізвище) розгромило османську армію візира Кари-Мустафи в битві поблизу _____ (місто), що є столицею теперішньої Австрії. Цю баталію деякі науковці називають «кавовою».
8. У липні _____ (рік) біля _____ (місто) відбулася битва між московитською та шведсько-козацькою арміями, що стала кульмінацією Північної війни. Баталія закінчилася поразкою союзників, очолюваних шведським королем _____ (ім'я) і гетьманом _____ (ім'я та прізвище).
9. У _____ (рік) відбулася битва біля _____ (місто), що в штаті Пенсільванія _____ (країна). Це – одна з найважливіших битв Громадянської війни, в ході якої 75-тисячна армія генерала _____ (ім'я та прізвище) зазнала поразки від 85-тисячного війська генерала Джорджа Міда. Для рабовласницької конфедерації баталія стала військовою катастрофою.
10. З _____ (день, місяць) по _____ (день, місяць, рік) тривала найбільша воєнна баталія Першої світової війни. Увесь цей час поблизу _____ (місто), що в Лотарингії на території теперішньої Франції, розгортався двобій французької та німецької армій. Французьке військо співочолював майбутній голова уряду Віші, командувач _____ (ім'я та прізвище). У ході переможної для Франції битви знищено 119 дивізій (69 французьких і 50 німецьких) – приблизно 1 млн людей.

II. Термінологія. Повсякдення. Розгляньте зображення знарядь (пристроїв) для праці. Назвіть їх. Опишіть, для чого та як їх використовували. *Кожне правильно назване знаряддя – 1 бал. Кожен опис – від 0 до 2 балів (тут і далі – 0 балів – відсутність відповіді, 1 бал – частковість, 2 бали – вичерпність). Усього – 15 балів.*



III. Біографістика. Упізнайте діяча історії України та заповніть його уявну фейсбук-сторінку. Заповнення кожної рубрики – від 0 до 2 балів. Усього – 10 балів.

facebook

ПАВЛО

Екраньте або номер телефону Пароль:
 Запам'ятати мене [Забудь свій пароль!](#)



ПРО СЕБЕ

Родовід _____

Роки життя _____

Роки діяльності _____

Країна діяльності _____

Посада _____

ЖИТТЄВЕ ПРАВИЛО

СІМ'Я

Дружина _____

Діти _____

ДРУЗІ

ПОЛІТИКА

Внутрішня _____

Зовнішня _____

IV. Літературознавство історичне. В українській літературі є чимало прислів'їв, приказок та крилатих висловів. Якщо вдуматися в їх зміст, виявляється, що вони влучно відображають певні історичні події чи епізоди. Установіть відповідності між крилатими фразами та відображуваними в них подіями або епізодами. Поясніть взаємозв'язки в кожній відповідності. *Кожна правильно встановлена відповідність – 1 бал. Кожне пояснення – 0–2 бали. Усього – 15 балів.*

- | | |
|--|---|
| <ol style="list-style-type: none"> 1. Як гарно було тоді, коли нас ще не любили... (Дмитро Донцов) 2. Проспиш весною – заплачеш зимою. 3. Не сіють вони і не жнуть, а хліб чужий жують. 4. Посади свиню за стіл, вона й ратиці на стіл. 5. За погані речі треба бити в плечі. | <ol style="list-style-type: none"> А. Рух Опору в роки Другої світової війни. Б. Окупація Червоною армією Галичини, Волині, Північної Буковини, Хотинщини та Південної Бессарабії. В. Початок Української революції. Г. Українсько-московський договір 1654 р. Д. Конкіста – завоювання Нового світу. Створення колоніальних імперій. |
|--|---|

V. Дипломатія. Заповніть таблицю, що стосується історії міжнародних відносин. Кожна правильно заповнена горизонталь – 0–5 балів (за кожен останній сектор – 0–2 бали). Всього – 15 балів.

Назва договору, угоди, союзу	Дата (рік) укладання	Місце (країна, місцевість і т. ін.) укладання	Сторони (країни, постаті) укладання	Умови договору, угоди, союзу
Ніштадтський мир				
Священний союз				
Північноатлантичний договір				

VI. Краєзнавство. Внесіть до таблиці події історії Прикарпаття відповідно до вказаних історичних періодів. Кожна правильно внесена подія – 1 бал. Усього – 10 балів.

XIX століття	Перша третина XX століття	Друга третина XX століття

1. Утворення Гуцульської сотні у складі легіону Українських січових стрільців. 2. Здійснення військами НКВС каральних акцій проти українського населення в урочищі Дем'янів Лаз, що на території теперішнього Івано-Франківська. 3. Утворення Станиславівської окружної Руської ради. 4. Започаткування промислового нафтовидобування на Прикарпатті. 5. Розгортання народного антипольського повстання у селі Жаб'є (теперішня Верховина). 6. Утворення Станиславівської єпархії Української греко-католицької церкви. 7. Заснування Кирилом Трильовським українського юнацького товариства «Січ» у селі Завалля теперішнього Снятинського району. 8. Створення перших загонів Української народної самооборони та їх реструктурування в бойові одиниці Української повстанської армії. 9. Здійснення вбивства провідника Організації українських націоналістів Степана Бандери, уродженця села Старий Угринів теперішнього Калуського району. 10. Підписання у місті Станиславів Акта злуки Західно-Української Народної Республіки з Українською Народною Республікою.

VII. Наративістика. У навчальній програмі з історії України для одинадцятого класу зазначена тема: «Україна на політичній карті Європи в 1914–1945 рр. Поразка спроб відновити українську державність. Друга світова війна в історичній пам'яті». Уявіть, що Вам доручено підготувати відповідне питання для параграфа підручника. Про що Ви написали би в ньому? Повідомлення оцінюється за такими критеріями: • відповідність змісту викладу умові завдання – 0–3 бали (тут і далі – 0 балів – не виконано; 1–2 бали – виконано частково; 3 бали – виконано повністю); • знання та аргументоване, достатнє для розкриття теми, застосування основних історичних категорій: історичної хронології; термінології; персоналістики; географії; джерелознавства – 0–3 бали; • з'ясування причинно-наслідкових зв'язків – 0–3 бали; • логічність та послідовність викладу матеріалу – 0–3 бали; • наявність висновків – 0–3 бали; • виявлення загальної ерудиції – 0–3 бали; • дотримання вимог сучасної української мови – 2 бали. Всього – 20 балів.

VIII. Картографія. Увідповідніть зображення історично-архітектурних пам'яток та їхні місця розташування, вписуючи цифри в потрібні «віконця». За необхідності заповніть умовні позначення. Кожна правильна відповідність – 1 бал. Усього – 10 балів.

